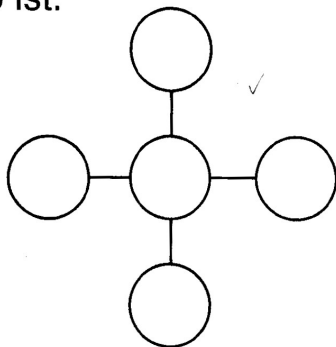


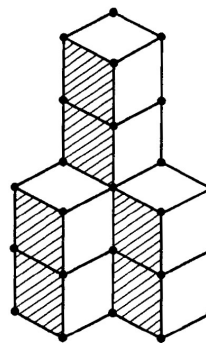
Arbeitsblatt 3

1 Ich bin die größte 3-stellige Zahl, deren Ziffern alle ungerade und unterschiedlich sind. Welche Zahl bin ich?


3 Verteile die Ziffern 1, 2, 3, 4 und 5 so auf die Kreise, dass die Summe in jeder Reihe 9 ist.



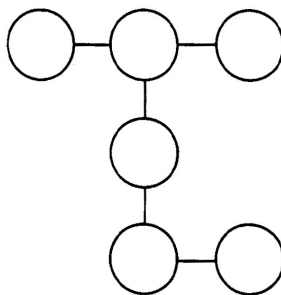
2 Wie viele Würfel benötigt man, um diese Figur nachzubauen? Die verdeckten Seiten sind gerade.



4 Wie viele Vierecke findest du?



SUPERKNACKER



Verteile die Ziffern 1, 2, 3, 4, 5 und 6 so auf die Kreise, dass die Summe in jeder Reihe 8 ist.

